













NUMERI ... IN GIOCO

LEGGI LE DEFINIZIONI E COMPLETA IL CRUCIVERBA CON I NUMERI

	A	B	C	D	E	F
						
						
						
						
						
						

ORIZZONTALE

	<ul style="list-style-type: none"> LA META' DI 120 IL TRIPLO DI 50
	<ul style="list-style-type: none"> IL PRECEDENTE DI 7700 1 uk – 9 h 9 da 7 u.
	<ul style="list-style-type: none"> IL NUMERO PARI COMPRESO TRA 418 E 421 LA PRIMA CIFRA E' 8, LA SECONDA E' LA SUA META'
	<ul style="list-style-type: none"> 60:12; 4 SONO LE uk, 7 LE h E 7 LE u
	<ul style="list-style-type: none"> 1 MIGLIAIO PIU' SETTE DECINE E CINQUE UNITA'
	<ul style="list-style-type: none"> IL PRIMO NUMERO E' IL TRIPLO DEL SECONDO E LA LORO SOMMA E' 12; 107-1 h 64:8=.

VERTICALI

A	<ul style="list-style-type: none"> 5u 7h 4da 6uk LA DECIMA PARTE DI 90
B	<ul style="list-style-type: none"> SESSANTADUE CENTESIMI IN CIFRE 1/3 DI 39
C	<ul style="list-style-type: none"> 9uk e 4da
D	<ul style="list-style-type: none"> LA PRIMA CIFRA E' UNO PIU' DI ZERO, LA SECONDA E' UNO MENO DI DIECI LE TRE CIFRE SONO UGUALI E LA LORO SOMMA E' 21
E	<ul style="list-style-type: none"> LA DIFFERENZA FRA 10 E 15 5u SOMMATE A 8h
F	<ul style="list-style-type: none"> 347 MILLESIMI IN NUMERO 2X2X2