


ATTIVITÀ 17

LEGGERE I MINUTI

La lancetta lunga dei minuti si muove più rapidamente di quella corta che indica le ore.
 Compie **un giro intero in un'ora**, cioè nello stesso tempo in cui la lancetta corta si sposta di un numero.



1 Completa la tabella **contando le tacche dei minuti** sul tuo amico orologio.

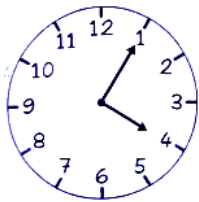
STORIA

Se la lancetta lunga è sul numero...

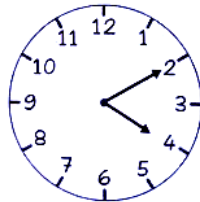
1	2	3	4	5	6	7	8	9	10	11	12
5	10	15									

... i minuti sono...

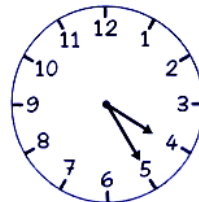
2 Quanti minuti? Prova e conta sul tuo amico orologio, poi scrivi.



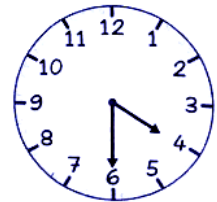
4 e



4 e



4 e



4 e