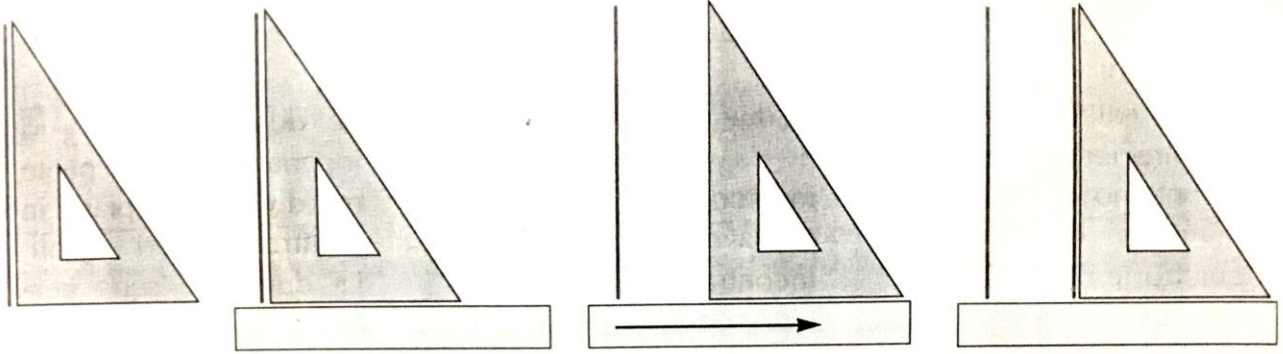


SEGMENTI PARALLELI E PERPENDICOLARI

21

- 1** Per tracciare segmenti paralleli puoi usare la riga e la squadra.
Leggi attentamente le istruzioni.



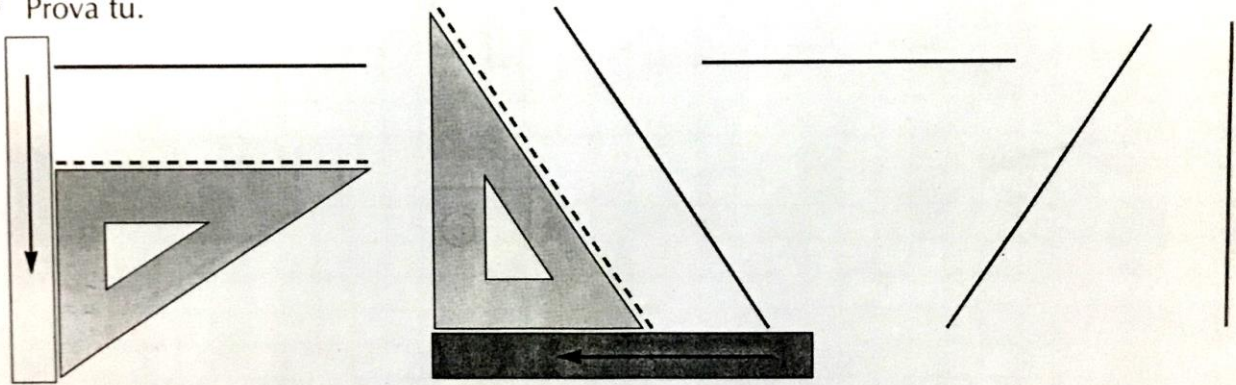
Appoggia la squadra al segmento già tracciato.

Appoggia la riga alla squadra.

Fai scorrere la squadra sulla riga.

Disegna il segmento parallelo.

- Prova tu.




- 2** Ora leggi attentamente le istruzioni per tracciare segmenti perpendicolari.

Appoggia la riga sul segmento già tracciato.

Appoggia la squadra sulla riga.

Disegna il segmento perpendicolare.



- Prova tu.

