
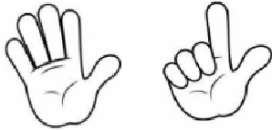
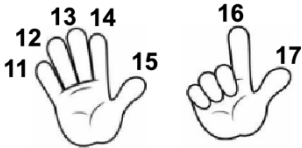


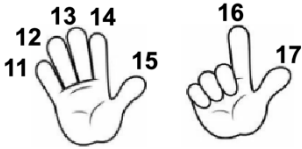


SEGUI LE ISTRUZIONI PER CALCOLARE LE SOTTRAZIONI CON LE DITA OLTRE IL 10.

	$- \quad 7$ 	$= 11$ 
<p>TIENI A MENTE IL PRIMO NUMERO: 18</p>	<p>APRI TANTE DITA QUANTE INDICATE DAL SECONDO NUMERO: 7</p>	<p>PARTI DAL NUMERO IN MEMORIA, CHIUDI LE DITA, UNA ALLA VOLTA E CONTA ALL'INDIETRO: ARRIVI A 11</p>

SEGUI LE ISTRUZIONI PER CALCOLARE LE SOTTRAZIONI CON LE DITA OLTRE IL 10.

	$- \quad 7$ 	$= 11$ 
<p>TIENI A MENTE IL PRIMO NUMERO: 18</p>	<p>APRI TANTE DITA QUANTE INDICATE DAL SECONDO NUMERO: 7</p>	<p>PARTI DAL NUMERO IN MEMORIA, CHIUDI LE DITA, UNA ALLA VOLTA E CONTA ALL'INDIETRO: ARRIVI A 11</p>