

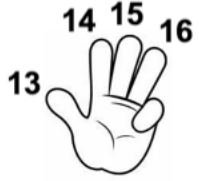





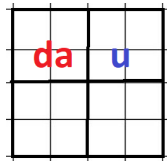
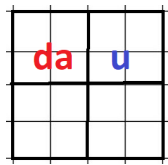
SEGUI LE ISTRUZIONI PER CALCOLARE LE ADDIZIONI CON LE DITA OLTRE IL 10.

 <p>12</p>	<p>+ 4</p> 	<p>= 16</p> 
<p>TIENI A MENTE IL PRIMO NUMERO: 12</p>	<p>APRI TANTE DITA QUANTE INDICATE DAL SECONDO NUMERO: 4</p>	<p>PARTI DAL NUMERO IN MEMORIA E CONTA IN AVANTI SULLE DITA APERTE: ARRIVI A 16</p>

SEGUI LE ISTRUZIONI PER CALCOLARE LE ADDIZIONI CON LE DITA OLTRE IL 10.

 <p>12</p>	<p>+ 4</p> 	<p>= 16</p> 
<p>TIENI A MENTE IL PRIMO NUMERO: 12</p>	<p>APRI TANTE DITA QUANTE INDICATE DAL SECONDO NUMERO: 4</p>	<p>PARTI DAL NUMERO IN MEMORIA E CONTA IN AVANTI SULLE DITA APERTE: ARRIVI A 16</p>

COLORA LE DECINE DI FRAGOLE IN ROSSO E LE UNITÀ IN GIALLO.



OSSERVA I NUMERI E INDICA DA QUANTE DA E DA QUANTE U SONO FORMATI, POI SCRIVI IL LORO NOME.

$$15 = \dots DA + \dots U$$

$$13 = \dots DA + \dots U$$

$$19 = \dots DA + \dots U$$

$$16 = \dots DA + \dots U$$

$$8 = \dots DA + \dots U$$

CALCOLA LE SEGUENTI ADDIZIONI

$$12 + 5 =$$

$$11 + 9 =$$

$$18 + 1 =$$

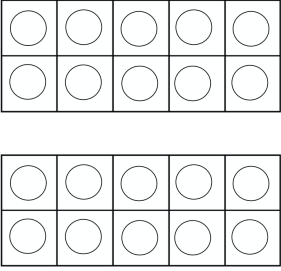
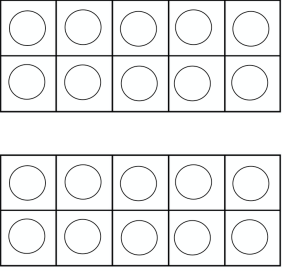
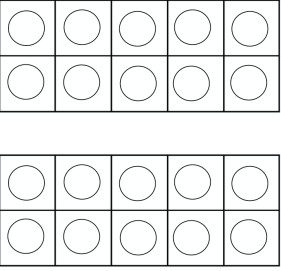
$$15 + 3 =$$

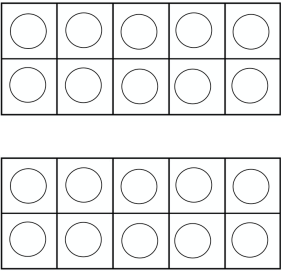
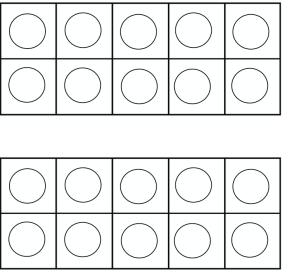
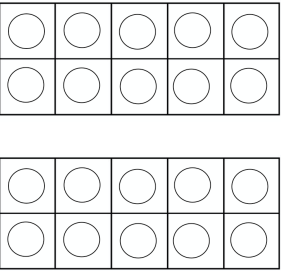
$$17 + 1 =$$

$$16 + 3 =$$

$$14 + 3 =$$

LEGGI IL NUMERO E COLORA LE PALLINE INDICATE

15	20	18
		

18	17	12
		

PROBLEMA

SUL BANCO CI SONO 7 GESSI BLU E 5 GESSI GIALLI. QUANTI GESSI CI SONO?

LEGGI LA QUANTITÀ INDICATA IN TABELLA, DISEGNA E RAGGRUPPA

da	u
1	6

COMPONI I SEGUENTI NUMERI

1 DA E 4 U=

1 DA E 8 U=

1 DA E 6 U=

1 DA E 0 U=

1 DA E 3 U=

2 DA E 0 U=

-3	N	+3	+	5	-	6	-4	N	+4
	17		10		14			11	
	11		9		20			10	
	12		15		12			12	
	6		3		9			8	
	13		12		17			14	
	15		7		11			15	
	10							9	

COMPLETA CON IL SEGNO + OPPURE -.

156 = 9	164 = 12	114 = 15
12.....2 = 14	205 = 15	188 = 10
124 = 16	146 = 8	137 = 20

CALCOLO MENTALE

ADDIZIONI

$12 + 8 =$	$11 + \dots = 20$	$\dots + 6 = 20$
$15 + 5 =$	$19 + \dots = 20$	$\dots + 2 = 20$
$17 + 3 =$	$16 + \dots = 20$	$\dots + 7 = 20$

ADDIZIONI

$13 + 2 =$	$14 + 4 =$	$16 + 3 =$
$11 + 5 =$	$17 + 2 =$	$13 + 6 =$
$15 + 1 =$	$12 + 3 =$	$12 + 5 =$

IN QUESTE OPERAZIONI LA DECINA È RIMASTA SEMPRE 1 QUINDI ABBIAMO SOMMATO SOLO LE UNITÀ.